

GOVERNO DO DISTRITO FEDERAL  
SECRETARIA DE ESTADO DE ADMINISTRAÇÃO PÚBLICA DO DISTRITO FEDERAL  
CONCURSO PÚBLICO PARA PROVIMENTO DE VAGAS E FORMAÇÃO DE CADASTRO RESERVA PARA O  
CARGO AUXILIAR OPERACIONAL DE SERVIÇOS DIRETOS  
EDITAL Nº 01 – SEAP/SES-AOSD, DE 28 DE MAIO DE 2014.

**Cargo 301**  
**ANATOMIA PATOLÓGICA**

**Data e horário da prova:**  
**Domingo, 28/9/2014, às 14h**

## INSTRUÇÕES

- Você receberá do fiscal:
  - um **caderno de questões** da prova objetiva contendo 50 (cinquenta) questões de múltipla escolha, com 5 (cinco) alternativas de resposta cada uma, e apenas uma alternativa correta;
  - um **cartão de respostas** ótico personalizado.
- Verifique se a numeração das questões, a paginação do **caderno de questões** e a codificação do **cartão de respostas** ótico estão corretas.
- Quando autorizado pelo **fiscal do IADES**, no momento da identificação, escreva no espaço apropriado do **cartão de respostas**, com a sua caligrafia usual, a seguinte frase:

*O segredo da força está na vontade.*

- Você dispõe de 3 (três) horas e 30 (trinta) minutos para fazer a prova objetiva, devendo controlar o tempo, pois não haverá prorrogação desse prazo. Esse tempo inclui a marcação do **cartão de respostas** ótico.
- Somente será permitido levar o **caderno de questões** da prova objetiva após 2 (duas) horas e 37 (trinta e sete) minutos do início da prova.
- Somente após decorrida 1 (uma) hora do início da prova, você poderá entregar seu **cartão de respostas** ótico e retirar-se da sala.
- Após o término da prova, entregue ao fiscal do **IADES** o **cartão de respostas** devidamente assinado.
- Deixe sobre a carteira apenas o documento de identidade e a **caneta esferográfica de tinta preta ou azul, fabricada de material transparente**.
- Não é permitida a utilização de qualquer aparelho eletrônico de comunicação. Desligue e guarde em embalagem fornecida pelo fiscal do **IADES**: máquina fotográfica; telefone celular; relógio; gravador; *bip*; receptor; *pager*; *notebook*; *tablet* eletrônico; *walkman*; aparelho portátil de armazenamento e de reprodução de músicas, vídeos e outros arquivos digitais; agenda eletrônica; *palmtop*; régua de cálculo; máquina de calcular e (ou) qualquer outro equipamento similar.
- Não é permitida a consulta a livros, dicionários, apontamentos e apostilas.
- Você somente poderá sair e retornar à sala de aplicação de provas na companhia de um **fiscal do IADES**.
- Não será permitida a utilização de lápis em nenhuma etapa da prova.

**Prezado(a) Candidato(a),**  
**confira se o tipo de prova recebido está de acordo com o indicado no seu ótico.**

## INSTRUÇÕES PARA A PROVA OBJETIVA

- Verifique se os seus dados estão corretos no **cartão de respostas**. Caso haja algum dado incorreto, escreva apenas no(s) campo(s) a ser(em) corrigido(s), conforme instruções no **cartão de respostas**.
- Leia atentamente cada questão e assinale, no **cartão de respostas** ótico, uma única alternativa.
- O **cartão de respostas** ótico não pode ser dobrado, amassado, rasurado ou manchado nem pode conter nenhum registro fora dos locais destinados às respostas.
- A maneira correta de assinalar a alternativa no **cartão de respostas** é cobrir, fortemente, com **caneta esferográfica preta ou azul**, o espaço a ela correspondente.
- Marque as respostas assim: ●

**TIPO “D”**

Realização

  
**iades**  
Instituto Americano de Desenvolvimento

## CONHECIMENTOS BÁSICOS

Questões de 1 a 25

## LÍNGUA PORTUGUESA

Questões de 1 a 10

Texto 1 para responder as questões de 1 a 4.

### Isolamento

1 Você é daqueles que troca o passeio com os amigos, o almoço de família ou um encontro amoroso pela sua série predileta? Uma vez ou outra tudo bem, mas fazer isso com 4 frequência pode ser um sinal de que você está abusando da tela. Tiago Lupoli explica que isso pode chegar ao estágio de alienação. “Nessa situação, o paciente dedica a maior parte 7 do seu tempo à TV e esquece compromissos e lazer”, afirma. A consequência é o enfraquecimento dos laços com a família, com os amigos e com todas as outras pessoas do seu 10 círculo social.

Disponível em: <<http://www.minhavidade.com.br/bem-estar/galerias/17678-assistir-televisao-em-excesso-pode-dobrar-o-risco-de-morte-prematura>>.  
Acesso em: 30/6/2014, com adaptações.

### QUESTÃO 1

De acordo com as informações do texto, assinale a alternativa correta.

- (A) Trocar, com frequência, as relações interpessoais por programas de TV pode levar uma pessoa ao estágio de alienação.
- (B) Quando uma pessoa troca um passeio com os amigos por uma série de TV, é sinal de que ela está doente.
- (C) A TV é prejudicial às relações interpessoais.
- (D) Dependendo da qualidade do que se vê na televisão, pode ocorrer o enfraquecimento dos laços familiares.
- (E) As pessoas que frequentemente veem TV ignoram o tempo para o lazer e não honram os próprios compromissos.

### QUESTÃO 2

Considerando a oração “Nessa situação, o paciente dedica a maior parte do seu tempo à TV” (linhas 6 e 7), assinale a alternativa correta.

- (A) A inclusão do artigo uma diante de “TV” tornaria o emprego da crase facultativo.
- (B) Se, no lugar de “TV”, tivesse sido utilizado o substantivo **televisão**, o emprego da crase seria proibido.
- (C) O emprego do sinal indicativo de crase diante de “TV” está inadequado.
- (D) O emprego do sinal indicativo de crase diante de “TV” é obrigatório.
- (E) O emprego do sinal indicativo de crase diante de “TV” é facultativo.

### QUESTÃO 3

No período “Nessa situação, o paciente dedica a maior parte do seu tempo à TV e esquece compromissos e lazer” (linhas 6 e 7), caso o termo destacado fosse substituído por **a maior parte dos pacientes**, de acordo com o que prescreve a norma-padrão acerca da concordância verbal, as formas verbais “dedica” e “esquece”

- (A) deveriam obrigatoriamente permanecer na terceira pessoa do singular.
- (B) deveriam obrigatoriamente passar para a terceira pessoa do plural.
- (C) poderiam tanto permanecer na terceira pessoa do singular quanto passar para a terceira pessoa do plural.
- (D) não poderiam passar para a terceira pessoa do plural.
- (E) não poderiam permanecer na terceira pessoa do singular.

### QUESTÃO 4

No texto 1, as aspas foram utilizadas no texto para

- (A) assinalar um trecho transcrito da fala de outra pessoa, que não é o autor do texto.
- (B) indicar o nome de uma obra científica.
- (C) marcar o emprego de expressões estrangeiras.
- (D) destacar o uso de palavras com o sentido modificado.
- (E) isolar expressões de baixo calão.

### QUESTÃO 5

Assinale a alternativa que apresenta dois vocábulos graficamente acentuados de acordo com a mesma regra.

- (A) Acho que é mais fácil trabalhar em hospital do que em posto.
- (B) Antes de trabalhar em hospital, ela foi voluntária, acompanhando pacientes com algum tipo de deficiência.
- (C) Os enfermeiros da rede pública merecem e têm o nosso respeito.
- (D) A profissão de médico é louvável.
- (E) A família representa um importante alicerce para quem está doente.

### QUESTÃO 6

Assinale a alternativa em que todas as palavras estão grafadas corretamente.

- (A) Aquela enfermeira sempre trás o seu próprio material de trabalho.
- (B) Apartir de hoje, procurarei entender como funcionam os hospitais públicos.
- (C) Ninguém possui mais talento do que eu para cuidar de pacientes.
- (D) Desde ontem, estou à espera de uma consulta com o ginecologista.
- (E) A doutora falou com o paciente através da janela do consultório.

**Texto 2 para responder as questões de 7 a 10.**

**Envelhecer com saúde**

1 As atitudes que tomamos ao longo da vida se refletem na chamada terceira idade, e os hábitos saudáveis mostrarão seus frutos nessa fase, podendo transformá-la na  
4 melhor idade.

Mas nunca é tarde para começar a cuidar do corpo e da mente. Os exercícios físicos adequados mantêm o  
7 organismo ativo e ajudam a prevenir doenças. E a atividade intelectual funciona como uma fisioterapia mental, como define João Toniolo, geriatra do Hospital Israelita Albert  
10 Einstein (HIAE). “Ler um bom livro, uma revista e até conversar com amigos ajudam a manter viva a troca de experiências com o mundo, resultando em cérebro  
13 exercitado e memória afiada”, afirma o médico.

Disponível em: <<http://www.einstein.br/einstein-saude/bem-estar-e-qualidade-de-vida/Paginas/envelhecer-com-saude.aspx>>. Acesso em: 30/6/2014, com adaptações.

**QUESTÃO 7** \_\_\_\_\_

Com base nas informações do texto, assinale a alternativa correta.

- (A) Uma velhice saudável não depende dos hábitos que o ser humano cultiva ao longo da vida.
- (B) Quando hábitos saudáveis são cultivados ao longo da vida, a terceira idade pode ser transformada na melhor idade.
- (C) Só pode desfrutar uma velhice saudável o ser humano que começou a cultivar hábitos saudáveis desde a sua juventude.
- (D) Qualquer atividade física, independentemente de como seja praticada, ajuda a manter o organismo ativo e a prevenir doenças.
- (E) Para se manter viva a troca de experiências com o mundo, a leitura de um bom livro é mais indicada do que a leitura de uma revista ou o bate-papo com os amigos.

**QUESTÃO 8** \_\_\_\_\_

Com relação ao emprego dos pronomes e das conjunções no primeiro parágrafo, assinale a alternativa correta.

- (A) O vocábulo “que” (linha 1) classifica-se como conjunção, pois introduz uma explicação.
- (B) O vocábulo “e” (linha 2) é uma conjunção que relaciona duas orações por meio da ideia de adversidade.
- (C) O pronome destacado em “transformá-la” (linha 3) refere-se a “idade” (linha 2).
- (D) O pronome destacado em “nessa fase” (linha 3) recupera a ideia contida em “ao longo da vida” (linha 1).
- (E) O pronome “seus” (linha 3) retoma o termo “os hábitos saudáveis” (linha 2).

**QUESTÃO 9** \_\_\_\_\_

Considerando o sentido com o qual as palavras foram empregadas no período “Mas nunca é tarde para começar a cuidar do corpo e da mente.” (linhas 5 e 6), assinale a alternativa correta.

- (A) No contexto, “Mas” tem sentido equivalente a Mais.
- (B) A forma verbal “começar” indica uma ação oposta ao sentido do verbo iniciar.
- (C) A substituição de “nunca” por **nem sempre** alteraria o sentido original do período.
- (D) A forma verbal “cuidar” mantém relação de antonímia com zelar.
- (E) Os vocábulos “corpo” e “mente” são sinônimos.

**QUESTÃO 10** \_\_\_\_\_

Acerca das questões sintáticas que envolvem o período “Os exercícios físicos adequados mantêm o organismo ativo e ajudam a prevenir doenças.” (linhas 6 e 7), assinale a alternativa correta.

- (A) Como contém apenas uma oração, o período é classificado como simples.
- (B) Os vocábulos “Os” e “físicos” são núcleos do sujeito ao qual se refere o verbo “mantêm”.
- (C) O verbo “mantêm” é intransitivo.
- (D) O vocábulo “doenças” é complemento do verbo “prevenir”, por isso funciona como objeto direto.
- (E) O sujeito de “ajudam” é indeterminado.

**MATEMÁTICA**  
**Questões de 11 a 18**

**QUESTÃO 11** \_\_\_\_\_

Um funcionário faz uma tarefa gastando dois dias de trabalho, com 8 horas de expediente em cada um, e mais duas horas. Se fossem 3 funcionários trabalhando na mesma tarefa, no mesmo ritmo do primeiro, a tarefa ficaria pronta em quantas horas?

- (A) 3.
- (B) 4,5.
- (C) 6.
- (D) 9,5.
- (E) 12.

**QUESTÃO 12** \_\_\_\_\_

Ao separar comprimidos em grupos de 4, um determinado enfermeiro percebeu que sobravam 2 e que, ao separar os mesmos comprimidos em grupos de 6, também sobravam 2. Quantos eram os comprimidos, considerando que o número deles estava entre 80 e 90?

- (A) 82.
- (B) 84.
- (C) 85.
- (D) 86.
- (E) 87.

**QUESTÃO 13** \_\_\_\_\_

Paulo era dono de  $\frac{3}{5}$  de um terreno, que possuía junto com seu irmão. Depois vendeu  $\frac{1}{4}$  do seu terreno. Com que parte do terreno total ele ficou?

- (A)  $\frac{4}{10}$  (B)  $\frac{2}{10}$  (C)  $\frac{3}{4}$  (D)  $\frac{7}{20}$  (E)  $\frac{9}{20}$

## QUESTÃO 14

Mateus pretendia comprar um televisor e pesquisou o preço do aparelho em duas lojas. Na primeira loja, o preço era R\$ 1.050,00, do qual lhe dariam um abatimento de R\$ 250,00. Na segunda, o preço era R\$ 940,00, do qual conseguiria um abatimento de R\$ 235,00. Nessa situação hipotética, considerando que Mateus comprou a televisão pelo menor preço final, o valor economizado com a pesquisa foi de

- (A) R\$ 15,00.
- (B) R\$ 85,00.
- (C) R\$ 95,00.
- (D) R\$ 110,00.
- (E) R\$ 125,00.

## QUESTÃO 15

Uma instituição de saúde recebeu 30 caixas com 48 seringas cada uma. Essas seringas serão embaladas em caixas com 20 unidades cada uma, para distribuição aos setores. Nessas condições, o número de caixas distribuídas é igual a

- (A) 24.
- (B) 48.
- (C) 72.
- (D) 96.
- (E) 100.

## QUESTÃO 16

Para comprar um carro, Carlos tinha 0,45 do total necessário, e sua esposa tinha 0,3 do mesmo total, mas ainda faltavam R\$ 5.250,00 para o valor do carro. Qual é o preço desse carro, em reais?

- (A) 22.000,00.
- (B) 21.000,00.
- (C) 20.000,00.
- (D) 19.000,00.
- (E) 18.000,00.

## QUESTÃO 17

O gerente de determinada loja aumentou o preço de uma mercadoria em 50%. Com isso, os clientes deixaram de adquirir o produto. O gerente, então, resolveu aplicar o desconto de 50% no novo preço. Nessa situação hipotética, é correto afirmar que o preço final do produto em relação ao preço original (antes do aumento) ficou

- (A) igual.
- (B) 25% mais alto.
- (C) 25% mais baixo.
- (D) 50% mais baixo.
- (E) 30% mais alto.

## QUESTÃO 18

Quantos cm<sup>3</sup> de água equivalem a 100 mL de água?

- (A) 100.
- (B) 10.
- (C) 1.
- (D) 0,1.
- (E) 0,01.

## SISTEMA ÚNICO DE SAÚDE (SUS)

### Questões de 19 a 21

## QUESTÃO 19

De acordo com a Lei nº 8.080/1990, a administração dos recursos orçamentários e financeiros destinados, em cada ano, à saúde é uma atribuição

- (A) da União, dos estados, do Distrito Federal e dos municípios, em seu âmbito administrativo.
- (B) exclusiva da União.
- (C) exclusiva dos municípios.
- (D) dos estados e municípios, em seu âmbito administrativo.
- (E) dos estados, do Distrito Federal e dos municípios, em seu âmbito administrativo.

## QUESTÃO 20

A descrição geográfica da distribuição de recursos humanos e de ações e serviços de saúde ofertados pelo SUS e pela iniciativa privada, considerando-se a capacidade instalada existente, os investimentos e o desempenho aferido a partir dos indicadores de saúde do sistema.

A definição apresentada descreve a (o)

- (A) região endêmica.
- (B) área distrital.
- (C) área epidêmica.
- (D) Mapa da Saúde.
- (E) região do SUS.

## QUESTÃO 21

O acesso às ações e aos serviços deve ser garantido a todas as pessoas, independentemente de sexo, raça, renda, ocupação, ou outras características sociais ou pessoais.

Com base no exposto, é correto afirmar que essa informação corresponde ao princípio da

- (A) participação popular.
- (B) equidade.
- (C) integralidade.
- (D) hierarquização.
- (E) universalidade.

## LEGISLAÇÃO APLICADA AOS SERVIDORES DO GDF

### Questões 22 e 23

## QUESTÃO 22

Conforme consta na Lei Orgânica do Distrito Federal, o Tribunal de Contas é integrado por

- (A) sete conselheiros.
- (B) nove conselheiros.
- (C) sete desembargadores.
- (D) nove ministros.
- (E) onze ministros.

## QUESTÃO 23

Quantos dias são previstos como prazo para a defesa escrita no processo administrativo disciplinar do regime jurídico dos servidores públicos civis do Distrito Federal, quando houver somente um servidor indiciado e não houver diligências reputadas indispensáveis?

- (A) Cinco.
- (B) Oito.
- (C) Trinta.
- (D) Quinze.
- (E) Dez.

### ATUALIDADES Questões 24 e 25

## QUESTÃO 24

Com relação às Regiões Administrativas com maior contingente populacional no Distrito Federal, é correto citar

- (A) Núcleo Bandeirante e Riacho Fundo.
- (B) Brazlândia e Itapoã.
- (C) Gama e Cruzeiro.
- (D) Lago Sul e Lago Norte.
- (E) Ceilândia e Taguatinga.

## QUESTÃO 25

No início do ano de 2014, o Distrito Federal passou a contar com o serviço de coleta seletiva de lixo. A esse respeito, assinale a alternativa correta.

- (A) Os caminhões da coleta seletiva recolherão o lixo seco e o lixo molhado, também chamado de inorgânico.
- (B) O lixo seco, objeto da coleta seletiva, compreende papel, plástico, vidro e alumínio.
- (C) A orientação é não embalar os vidros em papelão ou jornal, de forma a facilitar o manuseio pelos lixeiros.
- (D) Os veículos da coleta convencional serão substituídos, gradativamente, pelos caminhões da coleta seletiva até o final do ano.
- (E) Os moradores devem ter duas lixeiras para descartar separadamente o lixo orgânico de origem animal do lixo orgânico de origem vegetal.

### CONHECIMENTOS ESPECÍFICOS Questões de 26 a 50

## QUESTÃO 26

Os fatores que interferem nas características psicofisiológicas do trabalhador, causando desconforto ou afetando a sua saúde, são classificados como riscos

- (A) acidentais.
- (B) ergonômicos.
- (C) ambientais.
- (D) propositais.
- (E) biológicos.

## QUESTÃO 27



Esse recipiente é adequado para descarte de

- (A) fluidos orgânicos.
- (B) sobras de alimentos hospitalares.
- (C) resíduos radioativos.
- (D) materiais perfurocortantes.
- (E) peças anatômicas e vísceras provenientes de cirurgias.

## QUESTÃO 28

A higiene pessoal e o vestuário adequado são importantes procedimentos de segurança, que visam eliminar ou minimizar acidentes e agravos de saúde. Acerca desse assunto, assinale a alternativa que apresenta procedimento adequado em um laboratório de patologia.

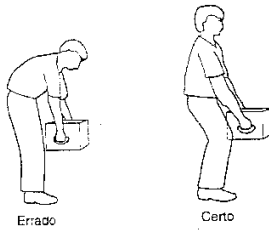
- (A) Cabelos longos devem ser mantidos presos.
- (B) As unhas devem ser compridas para auxiliar a abertura de frascos com tampa plástica.
- (C) Cosméticos devem ser usados no local de trabalho para dar um melhor aspecto ao trabalhador.
- (D) Joias, *piercings* e outros adereços podem ser livremente utilizados pelo trabalhador, porque eles não têm potencial para causar acidentes.
- (E) Sapatos abertos ou mesmo chinelos são adequados ao ambiente de trabalho, pois propiciam maior conforto ao trabalhador.

## QUESTÃO 29

A respeito das relações profissionais do auxiliar operacional de serviços diretos que atuam na área de anatomia patológica, assinale a alternativa correta.

- (A) É lícito obter vantagens indevidas, aproveitando-se da função ou em decorrência dela, sejam de caráter físico, emocional, político ou econômico.
- (B) É permitida a venda de peças anatômicas, desde que com o consentimento da chefia imediata.
- (C) É liberado fornecer a terceiros informações diagnósticas verbais ou escritas acerca dos procedimentos realizados.
- (D) É autorizado participar de qualquer tipo de concorrência desleal com colegas de trabalho, a fim de obter a preferência da chefia imediata e ascender na profissão.
- (E) É vedado ser conivente com erros técnicos, infrações éticas e com o exercício irregular ou ilegal da profissão.

### QUESTÃO 30



A figura apresentada mostra duas maneiras diferentes de se levantar um objeto pesado. Uma postura inadequada, durante uma prática laboral, pode levar a acidentes que causam afastamento do trabalhador, o que acarreta prejuízos de diversas ordens. A esse respeito, o conjunto de saberes que estuda as relações entre segurança e prevenção de acidentes de trabalho é denominado

- (A) ergonomia.
- (B) psicologia.
- (C) parapsicologia.
- (D) ecologia.
- (E) capacitação.

### QUESTÃO 31








Esse símbolo de segurança é utilizado para indicar que determinada substância química é

- (A) inflamável.
- (B) inodora.
- (C) irritante.
- (D) explosiva.
- (E) corrosiva.

### QUESTÃO 32

Assinale a alternativa que indica o símbolo com o qual se deve rotular recipiente contendo formol, considerando suas características químicas e os riscos que oferece ao ser humano.

- (A) 
- (B) 
- (C) 
- (D) 
- (E) 

### QUESTÃO 33

Assinale a alternativa que apresenta uma atitude a ser adotada dentro de um laboratório de anatomia patológica.

- (A) Manter objetos pessoais, bolsas e roupas.
- (B) Assistir a televisão, ouvir rádio ou usar fone de ouvido.
- (C) Usar equipamentos do laboratório para aquecer ou resfriar alimentos.
- (D) Comer, beber ou fumar.
- (E) Utilizar equipamentos de proteção individual.

### QUESTÃO 34

Em um laboratório de anatomia patológica, boa parte dos serviços realizados por um trabalhador é executada na posição ereta, na qual o corpo encontra seu melhor ponto de equilíbrio, mantendo um baixo nível de tensão dos músculos em geral. Sendo assim, ao se realizar um trabalho pesado, como a remoção de cadáveres das cubas para as mesas de dissecação, a altura dessas bancadas de trabalho, em relação ao indivíduo ereto, deve ser na altura

- (A) dos olhos.
- (B) dos ombros.
- (C) dos joelhos.
- (D) do púbis.
- (E) dos pés.

### QUESTÃO 35

O ato de lavar as mãos com água e sabão, por meio de técnica adequada, visa remover a sujeira e a maioria dos microrganismos transitórios da pele. A respeito desse procedimento, assinale a alternativa correta.

- (A) Antes de lavar as mãos, devem ser retirados anéis e pulseiras.
- (B) É desnecessário lavar o dorso das mãos.
- (C) A primeira parte a ser lavada são os punhos.
- (D) É desnecessário lavar as mãos antes de calçar as luvas.
- (E) Após a lavagem das mãos, é recomendado utilizar talco.

### QUESTÃO 36

O jaleco é um elemento de contenção e um dos principais equipamentos de proteção individual do trabalhador em laboratórios de anatomia patológica. Acerca desse equipamento, assinale a alternativa correta.

- (A) Deve ser sempre utilizado dentro do laboratório, mesmo que não se esteja executando nenhum trabalho.
- (B) Pode ter mangas curtas ou, até mesmo, não ter mangas.
- (C) É proibido seu uso em elevadores, restaurantes, transportes coletivos e outros locais públicos.
- (D) Deve ser usado permanentemente aberto, sem abotoar.
- (E) Deve ser lavado na residência do trabalhador.

### QUESTÃO 37

Assinale a alternativa que apresenta o tipo de luvas mais adequado para a execução de serviços gerais de limpeza das instalações do laboratório, lavagem de instrumentos e descontaminação.

- (A) Kevlar tricotado.
- (B) Fibra de vidro com polietileno reversível.
- (C) Algodão.
- (D) Cloreto de vinila.
- (E) Borracha.

### QUESTÃO 38

Um produto inflamável é aquele que

- (A) causa uma reação biológica de defesa do organismo, denominada inflamação.
- (B) produz corrosão em qualquer tipo de material.
- (C) produz fluorescência.
- (D) causa combustão.
- (E) é capaz de inflar um recipiente elástico.

### QUESTÃO 39

Assinale a alternativa que relaciona somente equipamentos de proteção coletiva.

- (A) Extintores de incêndio, lava-olhos e bota de borracha.
- (B) Capela de exaustão, pêra de borracha para pipetagem e chuveiro de emergência.
- (C) Óculos de segurança, extintores de incêndio e máscara.
- (D) Gorro descartável, luvas e jaleco.
- (E) Cabine de segurança biológica, extintores de incêndio e luvas.

### QUESTÃO 40

Quanto à função do hipoclorito de sódio, um composto químico muito utilizado em laboratórios, assinale a alternativa correta.

- (A) Desinfetante de uso geral.
- (B) Fixador de material biológico.
- (C) Dífanizador de espécimes biológicas.
- (D) Tratamento de queimaduras da pele.
- (E) Degradação de formol.

### QUESTÃO 41

Segurança do trabalho é o conjunto de medidas que visa

- (A) maximizar os acidentes de trabalho e as doenças ocupacionais.
- (B) transformar os casos de acidentes de trabalho em doenças ocupacionais.
- (C) dar assistência ao trabalhador acidentado.
- (D) promover a proteção ao trabalhador no seu local de trabalho.
- (E) facilitar o acesso do trabalhador a um novo emprego.

### QUESTÃO 42

Assinale a alternativa que apresenta conduta ética do profissional em laboratório de anatomia patológica.

- (A) Posicionar-se contrariamente aos interesses da categoria, visando obter vantagens pessoais.
- (B) Executar atividades que não sejam de sua competência legal.
- (C) Respeitar as normas da instituição empregadora, desde que essas normas não estejam em desacordo com o código de ética.
- (D) Revelar, sem justa causa, fato sigiloso que tenha conhecimento em razão do exercício de sua função.
- (E) Divulgar, por qualquer meio, documentação ou fotografias de peças anatômicas ou cadáveres.

### QUESTÃO 43

Após a utilização de seringas com agulhas descartáveis, deve-se

- (A) recapar as agulhas.
- (B) quebrar ou dobrar as agulhas.
- (C) lavar as agulhas com solução de hipoclorito de sódio a 5%.
- (D) esterilizar as agulhas em estufa.
- (E) descartá-las em recipientes rígidos e impermeáveis.

### QUESTÃO 44

Assinale a alternativa que indica um método usual e eficaz de esterilização de material laboratorial.

- (A) Fervura a 70 °C.
- (B) Autoclavagem.
- (C) Lavagem com água e sabão neutro.
- (D) Radiação alfa.
- (E) Tratamento por fissão nuclear.

### QUESTÃO 45

As relações entre os trabalhadores e os empregadores devem ser construtivas, visando ao progresso e ao bem-estar do ambiente de trabalho. O principal conflito ético que envolve trabalhadores e empregadores é o assédio moral, caracterizado por um conjunto de atitudes e comportamentos praticados dentro das organizações, deliberada e sistematicamente, com o objetivo de causar constrangimentos, por meio de ameaças e humilhações aos servidores, de modo a ferir sua dignidade e pressioná-los a abandonar um projeto, um cargo ou o próprio local de trabalho.

Considerando essas informações, é correto afirmar que o assédio moral ascendente caracteriza-se pela ação

- (A) de um superior hierárquico sobre um subordinado.
- (B) entre pessoas do mesmo nível hierárquico.
- (C) de um subordinado sobre o seu superior hierárquico.
- (D) de uma mulher sobre um homem.
- (E) de um homem sobre uma mulher.

## QUESTÃO 46 \_\_\_\_\_



O símbolo apresentado significa que o produto é

- (A) benéfico à saúde.
- (B) causador de infarto do miocárdio.
- (C) explosivo.
- (D) impróprio para beber.
- (E) carcinogênico.

## QUESTÃO 47 \_\_\_\_\_

Assinale a alternativa que apresenta atitude(s) correta(s) para a prevenção de acidentes de trabalho em um laboratório de anatomia patológica.

- (A) Ingerir soníferos antes da jornada de trabalho.
- (B) Limpar e desinfetar as bancadas de trabalho antes e depois de executar os serviços.
- (C) Usar capacetes durante a execução dos serviços.
- (D) Utilizar roupas de proteção contra radiação nuclear.
- (E) Não se alimentar durante o dia de trabalho.

## QUESTÃO 48 \_\_\_\_\_

Muitos trabalhadores se contaminam durante as atividades laborais por causa da negligência no uso dos equipamentos de proteção individual (EPI). A esse respeito, assinale a alternativa correta.

- (A) Todos os EPI são descartáveis.
- (B) A manutenção dos EPI deve ser realizada por fiscais do Ministério do Trabalho e Emprego.
- (C) Os EPI devem ser guardados na residência do trabalhador.
- (D) Os EPI devem ser fornecidos pelos empregadores.
- (E) Os EPI devem ser confeccionados com material metálico.

## QUESTÃO 49 \_\_\_\_\_

Por questões de biossegurança, um serviço de anatomia patológica deve ser constituído por

- (A) laboratórios de manipulação de cadáveres e preparação de lâminas histopatológicas compartilhando o mesmo espaço físico.
- (B) laboratórios sem exaustores para não contaminar o ambiente externo.
- (C) área administrativa, banheiros e refeitório isolados dos laboratórios.
- (D) laboratórios com ar-condicionado.
- (E) laboratórios com piso de madeira.

## QUESTÃO 50 \_\_\_\_\_

A contaminação por meio da formação de aerossóis no ambiente de trabalho deve ser contida com a utilização de

- (A) máscara.
- (B) avental impermeável.
- (C) jaleco.
- (D) luvas de procedimento.
- (E) abafadores de ruído.

Área livre