

GOVERNO DO DISTRITO FEDERAL  
SECRETARIA DE ESTADO DE ADMINISTRAÇÃO PÚBLICA DO DISTRITO FEDERAL  
CONCURSO PÚBLICO PARA PROVIMENTO DE VAGAS E FORMAÇÃO DE CADASTRO RESERVA PARA O  
CARGO AUXILIAR OPERACIONAL DE SERVIÇOS DIRETOS  
EDITAL Nº 01 – SEAP/SES-AOSD, DE 28 DE MAIO DE 2014.

**Cargo 301**  
**ANATOMIA PATOLÓGICA**

**Data e horário da prova:**  
**Domingo, 28/9/2014, às 14h**

## INSTRUÇÕES

- Você receberá do fiscal:
  - um **caderno de questões** da prova objetiva contendo 50 (cinquenta) questões de múltipla escolha, com 5 (cinco) alternativas de resposta cada uma, e apenas uma alternativa correta;
  - um **cartão de respostas** ótico personalizado.
- Verifique se a numeração das questões, a paginação do **caderno de questões** e a codificação do **cartão de respostas** ótico estão corretas.
- Quando autorizado pelo **fiscal do IADES**, no momento da identificação, escreva no espaço apropriado do **cartão de respostas**, com a sua caligrafia usual, a seguinte frase:

*O segredo da força está na vontade.*

- Você dispõe de 3 (três) horas e 30 (trinta) minutos para fazer a prova objetiva, devendo controlar o tempo, pois não haverá prorrogação desse prazo. Esse tempo inclui a marcação do **cartão de respostas** ótico.
- Somente será permitido levar o **caderno de questões** da prova objetiva após 2 (duas) horas e 37 (trinta e sete) minutos do início da prova.
- Somente após decorrida 1 (uma) hora do início da prova, você poderá entregar seu **cartão de respostas** ótico e retirar-se da sala.
- Após o término da prova, entregue ao fiscal do **IADES** o **cartão de respostas** devidamente assinado.
- Deixe sobre a carteira apenas o documento de identidade e a **caneta esferográfica de tinta preta ou azul, fabricada de material transparente**.
- Não é permitida a utilização de qualquer aparelho eletrônico de comunicação. Desligue e guarde em embalagem fornecida pelo fiscal do **IADES**: máquina fotográfica; telefone celular; relógio; gravador; *bip*; receptor; *pager*; *notebook*; *tablet* eletrônico; *walkman*; aparelho portátil de armazenamento e de reprodução de músicas, vídeos e outros arquivos digitais; agenda eletrônica; *palmtop*; régua de cálculo; máquina de calcular e (ou) qualquer outro equipamento similar.
- Não é permitida a consulta a livros, dicionários, apontamentos e apostilas.
- Você somente poderá sair e retornar à sala de aplicação de provas na companhia de um **fiscal do IADES**.
- Não será permitida a utilização de lápis em nenhuma etapa da prova.

**Prezado(a) Candidato(a),**  
**confira se o tipo de prova recebido está de acordo com o indicado no seu ótico.**

## INSTRUÇÕES PARA A PROVA OBJETIVA

- Verifique se os seus dados estão corretos no **cartão de respostas**. Caso haja algum dado incorreto, escreva apenas no(s) campo(s) a ser(em) corrigido(s), conforme instruções no **cartão de respostas**.
- Leia atentamente cada questão e assinale, no **cartão de respostas** ótico, uma única alternativa.
- O **cartão de respostas** ótico não pode ser dobrado, amassado, rasurado ou manchado nem pode conter nenhum registro fora dos locais destinados às respostas.
- A maneira correta de assinalar a alternativa no **cartão de respostas** é cobrir, fortemente, com **caneta esferográfica preta ou azul**, o espaço a ela correspondente.
- Marque as respostas assim: ●

**TIPO “C”**

Realização

  
**iades**  
Instituto Americano de Desenvolvimento

## CONHECIMENTOS BÁSICOS

Questões de 1 a 25

## LÍNGUA PORTUGUESA

Questões de 1 a 10

Texto 1 para responder as questões de 1 a 4.

### Envelhecer com saúde

<sup>1</sup> As atitudes que tomamos ao longo da vida se refletem na chamada terceira idade, e os hábitos saudáveis mostrarão seus frutos nessa fase, podendo transformá-la na <sup>4</sup> melhor idade.

Mas nunca é tarde para começar a cuidar do corpo e da mente. Os exercícios físicos adequados mantêm o <sup>7</sup> organismo ativo e ajudam a prevenir doenças. E a atividade intelectual funciona como uma fisioterapia mental, como define João Toniolo, geriatra do Hospital Israelita Albert <sup>10</sup> Einstein (HIAE). “Ler um bom livro, uma revista e até conversar com amigos ajudam a manter viva a troca de experiências com o mundo, resultando em cérebro <sup>13</sup> exercitado e memória afiada”, afirma o médico.

Disponível em: <<http://www.einstein.br/einstein-saude/bem-estar-e-qualidade-de-vida/Paginas/envelhecer-com-saude.aspx>>. Acesso em: 30/6/2014, com adaptações.

### QUESTÃO 1

Acerca das questões sintáticas que envolvem o período “Os exercícios físicos adequados mantêm o organismo ativo e ajudam a prevenir doenças.” (linhas 6 e 7), assinale a alternativa correta.

- (A) Como contém apenas uma oração, o período é classificado como simples.
- (B) Os vocábulos “Os” e “físicos” são núcleos do sujeito ao qual se refere o verbo “mantêm”.
- (C) O verbo “mantêm” é intransitivo.
- (D) O vocábulo “doenças” é complemento do verbo “prevenir”, por isso funciona como objeto direto.
- (E) O sujeito de “ajudam” é indeterminado.

### QUESTÃO 2

Com base nas informações do texto, assinale a alternativa correta.

- (A) Uma velhice saudável não depende dos hábitos que o ser humano cultiva ao longo da vida.
- (B) Quando hábitos saudáveis são cultivados ao longo da vida, a terceira idade pode ser transformada na melhor idade.
- (C) Só pode desfrutar uma velhice saudável o ser humano que começou a cultivar hábitos saudáveis desde a sua juventude.
- (D) Qualquer atividade física, independentemente de como seja praticada, ajuda a manter o organismo ativo e a prevenir doenças.
- (E) Para se manter viva a troca de experiências com o mundo, a leitura de um bom livro é mais indicada do que a leitura de uma revista ou o bate-papo com os amigos.

### QUESTÃO 3

Com relação ao emprego dos pronomes e das conjunções no primeiro parágrafo, assinale a alternativa correta.

- (A) O vocábulo “que” (linha 1) classifica-se como conjunção, pois introduz uma explicação.
- (B) O vocábulo “e” (linha 2) é uma conjunção que relaciona duas orações por meio da ideia de adversidade.
- (C) O pronome destacado em “transformá-la” (linha 3) refere-se a “idade” (linha 2).
- (D) O pronome destacado em “nessa fase” (linha 3) recupera a ideia contida em “ao longo da vida” (linha 1).
- (E) O pronome “seus” (linha 3) retoma o termo “os hábitos saudáveis” (linha 2).

### QUESTÃO 4

Considerando o sentido com o qual as palavras foram empregadas no período “Mas nunca é tarde para começar a cuidar do corpo e da mente.” (linhas 5 e 6), assinale a alternativa correta.

- (A) No contexto, “Mas” tem sentido equivalente a Mais.
- (B) A forma verbal “começar” indica uma ação oposta ao sentido do verbo iniciar.
- (C) A substituição de “nunca” por **nem sempre** alteraria o sentido original do período.
- (D) A forma verbal “cuidar” mantém relação de antonímia com zelar.
- (E) Os vocábulos “corpo” e “mente” são sinônimos.

Texto 2 para responder as questões de 5 a 8.

### Isolamento

<sup>1</sup> Você é daqueles que troca o passeio com os amigos, o almoço de família ou um encontro amoroso pela sua série predileta? Uma vez ou outra tudo bem, mas fazer isso com <sup>4</sup> frequência pode ser um sinal de que você está abusando da tela. Tiago Lupoli explica que isso pode chegar ao estágio de alienação. “Nessa situação, o paciente dedica a maior parte <sup>7</sup> do seu tempo à TV e esquece compromissos e lazer”, afirma. A consequência é o enfraquecimento dos laços com a <sup>10</sup> família, com os amigos e com todas as outras pessoas do seu círculo social.

Disponível em: <<http://www.minhavidade.com.br/bem-estar/galerias/17678-assistir-televisao-em-excesso-pode-dobrar-o-risco-de-morte-prematura>>. Acesso em: 30/6/2014, com adaptações.

### QUESTÃO 5

No texto 2, as aspas foram utilizadas no texto para

- (A) assinalar um trecho transcrito da fala de outra pessoa, que não é o autor do texto.
- (B) indicar o nome de uma obra científica.
- (C) marcar o emprego de expressões estrangeiras.
- (D) destacar o uso de palavras com o sentido modificado.
- (E) isolar expressões de baixo calão.

## QUESTÃO 6

De acordo com as informações do texto, assinale a alternativa correta.

- (A) Trocar, com frequência, as relações interpessoais por programas de TV pode levar uma pessoa ao estágio de alienação.
- (B) Quando uma pessoa troca um passeio com os amigos por uma série de TV, é sinal de que ela está doente.
- (C) A TV é prejudicial às relações interpessoais.
- (D) Dependendo da qualidade do que se vê na televisão, pode ocorrer o enfraquecimento dos laços familiares.
- (E) As pessoas que frequentemente veem TV ignoram o tempo para o lazer e não honram os próprios compromissos.

## QUESTÃO 7

Considerando a oração “Nessa situação, o paciente dedica a maior parte do seu tempo à TV” (linhas 6 e 7), assinale a alternativa correta.

- (A) A inclusão do artigo uma diante de “TV” tornaria o emprego da crase facultativo.
- (B) Se, no lugar de “TV”, tivesse sido utilizado o substantivo **televisão**, o emprego da crase seria proibido.
- (C) O emprego do sinal indicativo de crase diante de “TV” está inadequado.
- (D) O emprego do sinal indicativo de crase diante de “TV” é obrigatório.
- (E) O emprego do sinal indicativo de crase diante de “TV” é facultativo.

## QUESTÃO 8

No período “Nessa situação, o paciente dedica a maior parte do seu tempo à TV e esquece compromissos e lazer” (linhas 6 e 7), caso o termo destacado fosse substituído por **a maior parte dos pacientes**, de acordo com o que prescreve a norma-padrão acerca da concordância verbal, as formas verbais “dedica” e “esquece”

- (A) deveriam obrigatoriamente permanecer na terceira pessoa do singular.
- (B) deveriam obrigatoriamente passar para a terceira pessoa do plural.
- (C) poderiam tanto permanecer na terceira pessoa do singular quanto passar para a terceira pessoa do plural.
- (D) não poderiam passar para a terceira pessoa do plural.
- (E) não poderiam permanecer na terceira pessoa do singular.

## QUESTÃO 9

Assinale a alternativa que apresenta dois vocábulos graficamente acentuados de acordo com a mesma regra.

- (A) Acho que é mais fácil trabalhar em hospital do que em posto.
- (B) Antes de trabalhar em hospital, ela foi voluntária, acompanhando pacientes com algum tipo de deficiência.

- (C) Os enfermeiros da rede pública merecem e têm o nosso respeito.
- (D) A profissão de médico é louvável.
- (E) A família representa um importante alicerce para quem está doente.

## QUESTÃO 10

Assinale a alternativa em que todas as palavras estão grafadas corretamente.

- (A) Aquela enfermeira sempre trás o seu próprio material de trabalho.
- (B) Apartir de hoje, procurarei entender como funcionam os hospitais públicos.
- (C) Ninguém possui mais talento do que eu para cuidar de pacientes.
- (D) Desde ontem, estou à espera de uma consulta com o ginecologista.
- (E) A doutora falou com o paciente através da janela do consultório.

## MATEMÁTICA

### Questões de 11 a 18

## QUESTÃO 11

Ao separar comprimidos em grupos de 4, um determinado enfermeiro percebeu que sobravam 2 e que, ao separar os mesmos comprimidos em grupos de 6, também sobravam 2. Quantos eram os comprimidos, considerando que o número deles estava entre 80 e 90?

- (A) 82.
- (B) 84.
- (C) 85.
- (D) 86.
- (E) 87.

## QUESTÃO 12

Paulo era dono de  $\frac{3}{5}$  de um terreno, que possuía junto com seu irmão. Depois vendeu  $\frac{1}{4}$  do seu terreno. Com que parte do terreno total ele ficou?

- (A)  $\frac{4}{10}$
- (B)  $\frac{2}{10}$
- (C)  $\frac{3}{4}$
- (D)  $\frac{7}{20}$
- (E)  $\frac{9}{20}$

## QUESTÃO 13

Mateus pretendia comprar um televisor e pesquisou o preço do aparelho em duas lojas. Na primeira loja, o preço era R\$ 1.050,00, do qual lhe dariam um abatimento de R\$ 250,00. Na segunda, o preço era R\$ 940,00, do qual conseguiria um abatimento de R\$ 235,00. Nessa situação hipotética, considerando que Mateus comprou a televisão pelo menor preço final, o valor economizado com a pesquisa foi de

- (A) R\$ 15,00.
- (B) R\$ 85,00.
- (C) R\$ 95,00.
- (D) R\$ 110,00.
- (E) R\$ 125,00.

## QUESTÃO 14 \_\_\_\_\_

Uma instituição de saúde recebeu 30 caixas com 48 seringas cada uma. Essas seringas serão embaladas em caixas com 20 unidades cada uma, para distribuição aos setores. Nessas condições, o número de caixas distribuídas é igual a

- (A) 24.
- (B) 48.
- (C) 72.
- (D) 96.
- (E) 100.

## QUESTÃO 15 \_\_\_\_\_

Um funcionário faz uma tarefa gastando dois dias de trabalho, com 8 horas de expediente em cada um, e mais duas horas. Se fossem 3 funcionários trabalhando na mesma tarefa, no mesmo ritmo do primeiro, a tarefa ficaria pronta em quantas horas?

- (A) 3.
- (B) 4,5.
- (C) 6.
- (D) 9,5.
- (E) 12.

## QUESTÃO 16 \_\_\_\_\_

Para comprar um carro, Carlos tinha 0,45 do total necessário, e sua esposa tinha 0,3 do mesmo total, mas ainda faltavam R\$ 5.250,00 para o valor do carro. Qual é o preço desse carro, em reais?

- (A) 22.000,00.
- (B) 21.000,00.
- (C) 20.000,00.
- (D) 19.000,00.
- (E) 18.000,00.

## QUESTÃO 17 \_\_\_\_\_

O gerente de determinada loja aumentou o preço de uma mercadoria em 50%. Com isso, os clientes deixaram de adquirir o produto. O gerente, então, resolveu aplicar o desconto de 50% no novo preço. Nessa situação hipotética, é correto afirmar que o preço final do produto em relação ao preço original (antes do aumento) ficou

- (A) igual.
- (B) 25% mais alto.
- (C) 25% mais baixo.
- (D) 50% mais baixo.
- (E) 30% mais alto.

## QUESTÃO 18 \_\_\_\_\_

Quantos  $\text{cm}^3$  de água equivalem a 100 mL de água?

- (A) 100.
- (B) 10.
- (C) 1.
- (D) 0,1.
- (E) 0,01.

## SISTEMA ÚNICO DE SAÚDE (SUS)

### Questões de 19 a 21

## QUESTÃO 19 \_\_\_\_\_

A descrição geográfica da distribuição de recursos humanos e de ações e serviços de saúde ofertados pelo SUS e pela iniciativa privada, considerando-se a capacidade instalada existente, os investimentos e o desempenho aferido a partir dos indicadores de saúde do sistema.

A definição apresentada descreve a (o)

- (A) região endêmica.
- (B) área distrital.
- (C) área epidêmica.
- (D) Mapa da Saúde.
- (E) região do SUS.

## QUESTÃO 20 \_\_\_\_\_

De acordo com a Lei nº 8.080/1990, a administração dos recursos orçamentários e financeiros destinados, em cada ano, à saúde é uma atribuição

- (A) da União, dos estados, do Distrito Federal e dos municípios, em seu âmbito administrativo.
- (B) exclusiva da União.
- (C) exclusiva dos municípios.
- (D) dos estados e municípios, em seu âmbito administrativo.
- (E) dos estados, do Distrito Federal e dos municípios, em seu âmbito administrativo.

## QUESTÃO 21 \_\_\_\_\_

O acesso às ações e aos serviços deve ser garantido a todas as pessoas, independentemente de sexo, raça, renda, ocupação, ou outras características sociais ou pessoais.

Com base no exposto, é correto afirmar que essa informação corresponde ao princípio da

- (A) participação popular.
- (B) equidade.
- (C) integralidade.
- (D) hierarquização.
- (E) universalidade.

## LEGISLAÇÃO APLICADA AOS SERVIDORES DO GDF

### Questões 22 e 23

## QUESTÃO 22 \_\_\_\_\_

Conforme consta na Lei Orgânica do Distrito Federal, o Tribunal de Contas é integrado por

- (A) sete conselheiros.
- (B) nove conselheiros.
- (C) sete desembargadores.
- (D) nove ministros.
- (E) onze ministros.

## QUESTÃO 23

Quantos dias são previstos como prazo para a defesa escrita no processo administrativo disciplinar do regime jurídico dos servidores públicos civis do Distrito Federal, quando houver somente um servidor indiciado e não houver diligências reputadas indispensáveis?

- (A) Cinco.
- (B) Oito.
- (C) Trinta.
- (D) Quinze.
- (E) Dez.

### ATUALIDADES Questões 24 e 25

## QUESTÃO 24

No início do ano de 2014, o Distrito Federal passou a contar com o serviço de coleta seletiva de lixo. A esse respeito, assinale a alternativa correta.

- (A) Os caminhões da coleta seletiva recolherão o lixo seco e o lixo molhado, também chamado de inorgânico.
- (B) O lixo seco, objeto da coleta seletiva, compreende papel, plástico, vidro e alumínio.
- (C) A orientação é não embalar os vidros em papelão ou jornal, de forma a facilitar o manuseio pelos lixeiros.
- (D) Os veículos da coleta convencional serão substituídos, gradativamente, pelos caminhões da coleta seletiva até o final do ano.
- (E) Os moradores devem ter duas lixeiras para descartar separadamente o lixo orgânico de origem animal do lixo orgânico de origem vegetal.

## QUESTÃO 25

Com relação às Regiões Administrativas com maior contingente populacional no Distrito Federal, é correto citar

- (A) Núcleo Bandeirante e Riacho Fundo.
- (B) Brazlândia e Itapoã.
- (C) Gama e Cruzeiro.
- (D) Lago Sul e Lago Norte.
- (E) Ceilândia e Taguatinga.

### CONHECIMENTOS ESPECÍFICOS Questões de 26 a 50

## QUESTÃO 26

Os fatores que interferem nas características psicofisiológicas do trabalhador, causando desconforto ou afetando a sua saúde, são classificados como riscos

- (A) acidentais.
- (B) ergonômicos.
- (C) ambientais.
- (D) propositais.
- (E) biológicos.

## QUESTÃO 27



Esse recipiente é adequado para descarte de

- (A) fluidos orgânicos.
- (B) sobras de alimentos hospitalares.
- (C) resíduos radioativos.
- (D) materiais perfurocortantes.
- (E) peças anatômicas e vísceras provenientes de cirurgias.

## QUESTÃO 28

A higiene pessoal e o vestuário adequado são importantes procedimentos de segurança, que visam eliminar ou minimizar acidentes e agravos de saúde. Acerca desse assunto, assinale a alternativa que apresenta procedimento adequado em um laboratório de patologia.

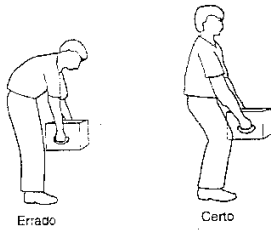
- (A) Cabelos longos devem ser mantidos presos.
- (B) As unhas devem ser compridas para auxiliar a abertura de frascos com tampa plástica.
- (C) Cosméticos devem ser usados no local de trabalho para dar um melhor aspecto ao trabalhador.
- (D) Joias, *piercings* e outros adereços podem ser livremente utilizados pelo trabalhador, porque eles não têm potencial para causar acidentes.
- (E) Sapatos abertos ou mesmo chinelos são adequados ao ambiente de trabalho, pois propiciam maior conforto ao trabalhador.

## QUESTÃO 29

A respeito das relações profissionais do auxiliar operacional de serviços diretos que atuam na área de anatomia patológica, assinale a alternativa correta.

- (A) É lícito obter vantagens indevidas, aproveitando-se da função ou em decorrência dela, sejam de caráter físico, emocional, político ou econômico.
- (B) É permitida a venda de peças anatômicas, desde que com o consentimento da chefia imediata.
- (C) É liberado fornecer a terceiros informações diagnósticas verbais ou escritas acerca dos procedimentos realizados.
- (D) É autorizado participar de qualquer tipo de concorrência desleal com colegas de trabalho, a fim de obter a preferência da chefia imediata e ascender na profissão.
- (E) É vedado ser conivente com erros técnicos, infrações éticas e com o exercício irregular ou ilegal da profissão.

### QUESTÃO 30



A figura apresentada mostra duas maneiras diferentes de se levantar um objeto pesado. Uma postura inadequada, durante uma prática laboral, pode levar a acidentes que causam afastamento do trabalhador, o que acarreta prejuízos de diversas ordens. A esse respeito, o conjunto de saberes que estuda as relações entre segurança e prevenção de acidentes de trabalho é denominado

- (A) ergonomia.
- (B) psicologia.
- (C) parapsicologia.
- (D) ecologia.
- (E) capacitação.

### QUESTÃO 31








Esse símbolo de segurança é utilizado para indicar que determinada substância química é

- (A) inflamável.
- (B) inodora.
- (C) irritante.
- (D) explosiva.
- (E) corrosiva.

### QUESTÃO 32

Assinale a alternativa que indica o símbolo com o qual se deve rotular recipiente contendo formol, considerando suas características químicas e os riscos que oferece ao ser humano.

- (A) 
- (B) 
- (C) 
- (D) 
- (E) 

### QUESTÃO 33

Assinale a alternativa que apresenta uma atitude a ser adotada dentro de um laboratório de anatomia patológica.

- (A) Manter objetos pessoais, bolsas e roupas.
- (B) Assistir a televisão, ouvir rádio ou usar fone de ouvido.
- (C) Usar equipamentos do laboratório para aquecer ou resfriar alimentos.
- (D) Comer, beber ou fumar.
- (E) Utilizar equipamentos de proteção individual.

### QUESTÃO 34

Em um laboratório de anatomia patológica, boa parte dos serviços realizados por um trabalhador é executada na posição ereta, na qual o corpo encontra seu melhor ponto de equilíbrio, mantendo um baixo nível de tensão dos músculos em geral. Sendo assim, ao se realizar um trabalho pesado, como a remoção de cadáveres das cubas para as mesas de dissecação, a altura dessas bancadas de trabalho, em relação ao indivíduo ereto, deve ser na altura

- (A) dos olhos.
- (B) dos ombros.
- (C) dos joelhos.
- (D) do púbis.
- (E) dos pés.

### QUESTÃO 35

O ato de lavar as mãos com água e sabão, por meio de técnica adequada, visa remover a sujeira e a maioria dos microrganismos transitórios da pele. A respeito desse procedimento, assinale a alternativa correta.

- (A) Antes de lavar as mãos, devem ser retirados anéis e pulseiras.
- (B) É desnecessário lavar o dorso das mãos.
- (C) A primeira parte a ser lavada são os punhos.
- (D) É desnecessário lavar as mãos antes de calçar as luvas.
- (E) Após a lavagem das mãos, é recomendado utilizar talco.

### QUESTÃO 36

O jaleco é um elemento de contenção e um dos principais equipamentos de proteção individual do trabalhador em laboratórios de anatomia patológica. Acerca desse equipamento, assinale a alternativa correta.

- (A) Deve ser sempre utilizado dentro do laboratório, mesmo que não se esteja executando nenhum trabalho.
- (B) Pode ter mangas curtas ou, até mesmo, não ter mangas.
- (C) É proibido seu uso em elevadores, restaurantes, transportes coletivos e outros locais públicos.
- (D) Deve ser usado permanentemente aberto, sem abotoar.
- (E) Deve ser lavado na residência do trabalhador.

### QUESTÃO 37

Assinale a alternativa que apresenta o tipo de luvas mais adequado para a execução de serviços gerais de limpeza das instalações do laboratório, lavagem de instrumentos e descontaminação.

- (A) Kevlar tricotado.
- (B) Fibra de vidro com polietileno reversível.
- (C) Algodão.
- (D) Cloreto de vinila.
- (E) Borracha.

### QUESTÃO 38

Um produto inflamável é aquele que

- (A) causa uma reação biológica de defesa do organismo, denominada inflamação.
- (B) produz corrosão em qualquer tipo de material.
- (C) produz fluorescência.
- (D) causa combustão.
- (E) é capaz de inflar um recipiente elástico.

### QUESTÃO 39

Assinale a alternativa que relaciona somente equipamentos de proteção coletiva.

- (A) Extintores de incêndio, lava-olhos e bota de borracha.
- (B) Capela de exaustão, pêra de borracha para pipetagem e chuveiro de emergência.
- (C) Óculos de segurança, extintores de incêndio e máscara.
- (D) Gorro descartável, luvas e jaleco.
- (E) Cabine de segurança biológica, extintores de incêndio e luvas.

### QUESTÃO 40

Quanto à função do hipoclorito de sódio, um composto químico muito utilizado em laboratórios, assinale a alternativa correta.

- (A) Desinfetante de uso geral.
- (B) Fixador de material biológico.
- (C) Diafanizador de espécimes biológicas.
- (D) Tratamento de queimaduras da pele.
- (E) Degradação de formol.

### QUESTÃO 41

Segurança do trabalho é o conjunto de medidas que visa

- (A) maximizar os acidentes de trabalho e as doenças ocupacionais.
- (B) transformar os casos de acidentes de trabalho em doenças ocupacionais.
- (C) dar assistência ao trabalhador acidentado.
- (D) promover a proteção ao trabalhador no seu local de trabalho.
- (E) facilitar o acesso do trabalhador a um novo emprego.

### QUESTÃO 42

Assinale a alternativa que apresenta conduta ética do profissional em laboratório de anatomia patológica.

- (A) Posicionar-se contrariamente aos interesses da categoria, visando obter vantagens pessoais.
- (B) Executar atividades que não sejam de sua competência legal.
- (C) Respeitar as normas da instituição empregadora, desde que essas normas não estejam em desacordo com o código de ética.
- (D) Revelar, sem justa causa, fato sigiloso que tenha conhecimento em razão do exercício de sua função.
- (E) Divulgar, por qualquer meio, documentação ou fotografias de peças anatômicas ou cadáveres.

### QUESTÃO 43

Após a utilização de seringas com agulhas descartáveis, deve-se

- (A) recapar as agulhas.
- (B) quebrar ou dobrar as agulhas.
- (C) lavar as agulhas com solução de hipoclorito de sódio a 5%.
- (D) esterilizar as agulhas em estufa.
- (E) descartá-las em recipientes rígidos e impermeáveis.

### QUESTÃO 44

Assinale a alternativa que indica um método usual e eficaz de esterilização de material laboratorial.

- (A) Fervura a 70 °C.
- (B) Autoclavagem.
- (C) Lavagem com água e sabão neutro.
- (D) Radiação alfa.
- (E) Tratamento por fissão nuclear.

### QUESTÃO 45

As relações entre os trabalhadores e os empregadores devem ser construtivas, visando ao progresso e ao bem-estar do ambiente de trabalho. O principal conflito ético que envolve trabalhadores e empregadores é o assédio moral, caracterizado por um conjunto de atitudes e comportamentos praticados dentro das organizações, deliberada e sistematicamente, com o objetivo de causar constrangimentos, por meio de ameaças e humilhações aos servidores, de modo a ferir sua dignidade e pressioná-los a abandonar um projeto, um cargo ou o próprio local de trabalho.

Considerando essas informações, é correto afirmar que o assédio moral ascendente caracteriza-se pela ação

- (A) de um superior hierárquico sobre um subordinado.
- (B) entre pessoas do mesmo nível hierárquico.
- (C) de um subordinado sobre o seu superior hierárquico.
- (D) de uma mulher sobre um homem.
- (E) de um homem sobre uma mulher.

## QUESTÃO 46 \_\_\_\_\_



O símbolo apresentado significa que o produto é

- (A) benéfico à saúde.
- (B) causador de infarto do miocárdio.
- (C) explosivo.
- (D) impróprio para beber.
- (E) carcinogênico.

## QUESTÃO 47 \_\_\_\_\_

Assinale a alternativa que apresenta atitude(s) correta(s) para a prevenção de acidentes de trabalho em um laboratório de anatomia patológica.

- (A) Ingerir soníferos antes da jornada de trabalho.
- (B) Limpar e desinfetar as bancadas de trabalho antes e depois de executar os serviços.
- (C) Usar capacetes durante a execução dos serviços.
- (D) Utilizar roupas de proteção contra radiação nuclear.
- (E) Não se alimentar durante o dia de trabalho.

## QUESTÃO 48 \_\_\_\_\_

Muitos trabalhadores se contaminam durante as atividades laborais por causa da negligência no uso dos equipamentos de proteção individual (EPI). A esse respeito, assinale a alternativa correta.

- (A) Todos os EPI são descartáveis.
- (B) A manutenção dos EPI deve ser realizada por fiscais do Ministério do Trabalho e Emprego.
- (C) Os EPI devem ser guardados na residência do trabalhador.
- (D) Os EPI devem ser fornecidos pelos empregadores.
- (E) Os EPI devem ser confeccionados com material metálico.

## QUESTÃO 49 \_\_\_\_\_

Por questões de biossegurança, um serviço de anatomia patológica deve ser constituído por

- (A) laboratórios de manipulação de cadáveres e preparação de lâminas histopatológicas compartilhando o mesmo espaço físico.
- (B) laboratórios sem exaustores para não contaminar o ambiente externo.
- (C) área administrativa, banheiros e refeitório isolados dos laboratórios.
- (D) laboratórios com ar-condicionado.
- (E) laboratórios com piso de madeira.

## QUESTÃO 50 \_\_\_\_\_

A contaminação por meio da formação de aerossóis no ambiente de trabalho deve ser contida com a utilização de

- (A) máscara.
- (B) avental impermeável.
- (C) jaleco.
- (D) luvas de procedimento.
- (E) abafadores de ruído.

Área livre